

СПЕЦИФИКАЦИЯ КОНТРОЛЬНЫХ ИЗМЕРИТЕЛЬНЫХ МАТЕРИАЛОВ ДЛЯ ПРОВЕДЕНИЯ ГОДОВОЙ КОНТРОЛЬНОЙ РАБОТЫ ПО ГЕОГРАФИИ ЗА КУРС 8 КЛАССА

1. Назначение работы

Контрольная работа предназначена для проведения процедуры промежуточной аттестации обучающихся по учебному предмету «География» за курс 8 класса.

2. Содержание контрольной работы

соответствует требованиям Федерального государственного образовательного стандарта основного общего образования, определяется содержанием рабочей программы по географии для 8 класса.

3. Характеристика структуры и содержания работы

В работу по географии включено 27 заданий, среди которых:

1) 25 заданий - задания с выбором ответа, к каждому из которых приводится четыре варианта ответа, из которых верен только один.

2) 2 задания - задания с кратким ответом, в которых ответ необходимо записать в виде комбинации цифр, слова или словосочетания.

4. Условия проведения работы

На выполнение всей работы отводится 45 минут.

Этапы проведения работы

1)	вводный инструктаж для детей об особенностях данной работы	3 минуты
2)	заполнение титульного листа (перед началом выполнения работы, на доске, должен быть оформлен образец заполнения титульного листа)	2 минуты
3)	выполнение работы:	40 минут

При проведении контрольной работы разрешается использование атласов.

5. Система оценивания выполнения отдельных заданий и работы в целом

1. Задания с выбором ответа считаются выполненными верно и оцениваются в 1 балл, если выбранный учащимся номер ответа совпадает с эталоном.

2. Задание с кратким ответом считается выполненным и оценивается в 2 балла, если записанный ответ совпадает с эталоном, в 1 балл – если допущена одна ошибка.

Выполнение учащимся работы в целом определяется суммарным баллом, полученным им по результатам выполнения всех заданий работы. Максимальный балл работы составляет – 29 баллов.

Шкала оценивания работы

сумма баллов	оценка	Уровень сформированности предметных умений
26-29	5	повышенный
21-25	4	повышенный
14-20	3	базовый
< 14	2	низкий

**КОДИФИКАТОР ЭЛЕМЕНТОВ СОДЕРЖАНИЯ И ПРЕДМЕТНЫХ РЕЗУЛЬТАТОВ,
ПРОВЕРЯЕМЫХ НА КОНТРОЛЬНОЙ ГОДОВОЙ КОНТРОЛЬНОЙ РАБОТЕ ПО ГЕОГРАФИИ
ЗА КУРС 8 КЛАССА**

Обозначение заданий в работе	Проверяемые умения	Код контролируемого элемента содержания	Код проверяемого умения*	Уровень сложности	Макс. балл
1.	Уметь определять на карте направления	2.1	1.1	Базовый	1
2.	Знать специфику географического положения России	1.7	5.1	Базовый	1
3.	Знать и понимать особенности природы России	1.7	5.2	Базовый	1
4.	Уметь использовать приобретенные знания и умения в практической деятельности и повседневной жизни для чтения карт различного содержания	3.2	5.3	Продвинутый	1
5.	Знать и понимать особенности природы России	1.7	5.2	Базовый	1
6.	Знать и понимать особенности природы России	1.7	5.2	Базовый	1
7.	Знать и понимать особенности природы России	1.7	5.2	Базовый	1
8.	Уметь использовать приобретенные знания и умения в практической деятельности и повседневной -жизни для чтения карт различного содержания	3.2	5.3	Продвинутый	1
9.	Знать и понимать особенности природы России	1.7	5.2	Базовый	1
10.	Знать специфику географического положения России	1.7	5.1	Базовый	1
11.	Знать и понимать особенности природы России	1.7	5.2	Базовый	1
12.	Знать и понимать особенности природы России	1.7	5.2	Базовый	1
13.	Знать и понимать особенности природы России	1.7	5.2	Базовый	1
14.	Знать и понимать особенности природы России	1.7	5.2	Базовый	1
15.	Знать специфику географического положения России	1.7	5.1	Базовый	1
16.	Знать и понимать особенности природы России	1.7	5.2	Базовый	1
17.	Знать и понимать особенности природы России	1.7	5.2	Базовый	1
18.	Знать и понимать особенности природы России	1.7	5.2	Базовый	1
19.	Знать и понимать особенности природы России	1.7	5.2	Базовый	1

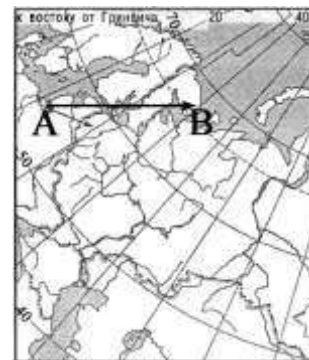
20.	Знать и понимать особенности природы России	1.7	5.2	Базовый	1
21.	Знать и понимать особенности природы России	1.7	5.2	Базовый	1
22.	Знать и понимать особенности природы России	1.7	5.2	Базовый	1
23.	Знать и понимать особенности природы России	1.7	5.2	Базовый	1
24.	Знать и понимать особенности природы России	1.7	5.2	Базовый	1
25.	Знать и понимать особенности природы России	1.7	5.2	Базовый	1
26.	Знать и понимать особенности природы России	1.7	5.2	Базовый	1
27.	Уметь использовать приобретенные знания и умения в практической деятельности и повседневной жизни для определения поясного времени	3.1	5.1	Продвинутый	1

ДЕМОНСТРАЦИОННЫЙ ВАРИАНТ ГОДОВОЙ КОНТРОЛЬНОЙ РАБОТЫ ПО ГЕОГРАФИИ ЗА КУРС 8 КЛАССА

1

Какому направлению соответствует направление А – В на карте Европейской части России?

- 1) север
- 2) северо-восток
- 3) восток
- 4) юго-восток



2

Какие моря относятся к бассейну Атлантического океана?

- 1) Балтийское и Черное
- 2) Белое и Берингово
- 3) Баренцево и Аравийское
- 4) Тасманово и Красное

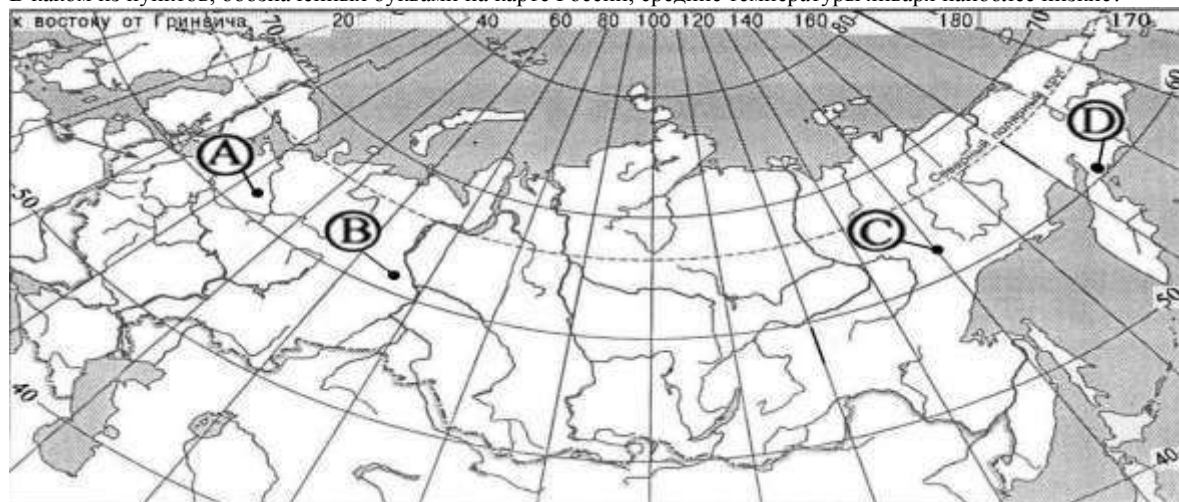
3

Подзолистые почвы образуются в

- 1) тайге
- 2) степях
- 3) полупустынях
- 4) тундре

4

В каком из пунктов, обозначенных буквами на карте России, средние температуры января наиболее низкие?



- 1) А
- 2) В
- 3) С
- 4) D

5

В каком из перечисленных регионов России зимы наиболее холодные?

- 1) Калининградская область
- 2) Якутия
- 3) Астраханская область
- 4) Татарстан

6

Неблагоприятное воздействие на природу оказывает

- 1) проведение снегозадержания на полях
- 2) создание лесополос в степной зоне
- 3) осушение болот в верховьях рек
- 4) террасирование склонов

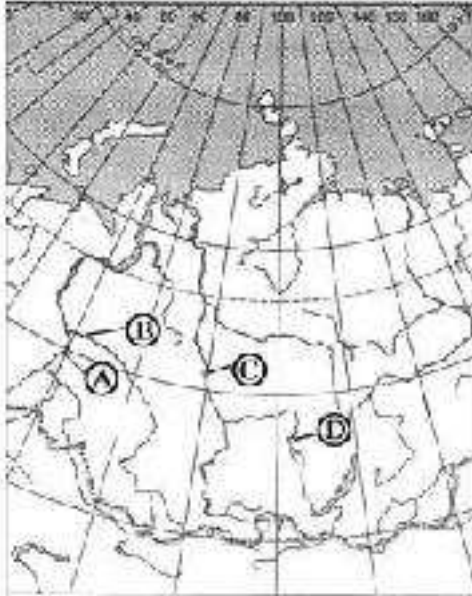
7

На какой из перечисленных территорий России наиболее вероятны землетрясения?

- 1) Кольский полуостров
- 2) острова Новая Земля
- 3) полуостров Таймыр
- 4) остров Сахалин

8

Какой буквой на фрагменте карты России обозначена река Енисей?



- 1) A 2) B 3) C 4) D

9

Для какого типа умеренного климата характерны самые низкие зимние температуры?

- 1) морского
- 2) умеренно континентального
- 3) резко континентального
- 4) муссонного

10

Какое утверждение о географическом положении России является верным?

- 1) На юго-западе Россия граничит с Украиной.
- 2) Крайняя северная точка страны находится на полуострове Ямал.
- 3) Площадь территории страны превышает 20 млн кв. км.
- 4) Россия омывается морями четырех океанов.

11

Огромные валуны, встречающиеся на полях Псковской области, попали туда в результате деятельности

- 1) ледника
- 2) ветра
- 3) моря
- 4) текучих вод

12

Какие горы в России являются линией климатического раздела между областями умеренно-континентального и континентального типов климата умеренного пояса?

- 1) Кавказские
- 2) Уральские
- 3) Алтай
- 4) Саяны

13

Примером исчерпаемых невозобновимых природных ресурсов служит

- 1) пресная вода
- 2) почва
- 3) железная руда
- 4) солнечная энергия

14

Основные запасы пресной воды на Земле сосредоточены в

- 1) озёрах
- 2) реках
- 3) ледниках
- 4) подземных водах

15

Крайняя северная материковая точка России:

- 1) мыс Дежнёва
- 2) мыс Флигели
- 3) мыс Игольный
- 4) мыс Челюскин

16

Самое большое и глубокое море у берегов России:

- 1) Охотское
- 2) Берингово
- 3) Баренцево
- 4) Японское

17

Самый большой остров России:

- 1) Новая Земля
- 2) Сахалин
- 3) Врангеля
- 4) Колгуев

18

Высшая точка России – это гора:

- 1) Ключевская Сопка
- 2) Казбек
- 3) Эльбрус
- 4) Белуха

19

На климат России наибольшее влияние оказывает океан:

- 1) Тихий
- 2) Атлантический
- 3) Северный Ледовитый
- 4) Индийский

20

Самое холодное место в России:

- 1) Оймякон
- 2) Остров Рудольфа
- 3) Таймыр
- 4) Кольский полуостров

21

Горной рекой является:

- 1) Урал
- 2) Печора
- 3) Ока
- 4) Терек

22

Пограничной рекой является:

- 1) Волга
- 2) Енисей
- 3) Амур
- 4) Кама

23

Высшей точкой Ставропольской возвышенности является гора:

- 1) Недреманная
- 2) Стрижамент
- 3) Эльбрус
- 4) Машук

24

Самые высокие горы России:

- 1) Урал
- 2) Саяны
- 3) Кавказ
- 4) Хибины

25

Крайняя южная точка России:

- 1) мыс Флигели
- 2) о. Ратманова
- 3) г. Базардюзю
- 4) Коса в Гданьском заливе

26

Установите соответствие между каждым из природных ресурсов и видом, к которому он относится.

ПРИРОДНЫЕ РЕСУРСЫ

ВИДЫ ПРИРОДНЫХ РЕСУРСОВ

- | | | | |
|----|----------------|----|-------------------------------|
| 1) | энергия Солнца | А) | неисчерпаемые |
| 2) | медные руды | Б) | исчерпаемые
возобновимые |
| 3) | каменный уголь | В) | исчерпаемые
невозобновимые |

Запишите в таблицу буквы, соответствующие выбранным ответам.

1	2	3

27

Владимир из Москвы (II часовой пояс) хочет поздравить Сергея, находящегося в Иркутске (VII часовой пояс), с наступлением Нового Года ровно в полночь по времени Иркутска. Определите, во часов по московскому времени должен позвонить Владимир. Ответ запишите цифрами.

Ответ _____

